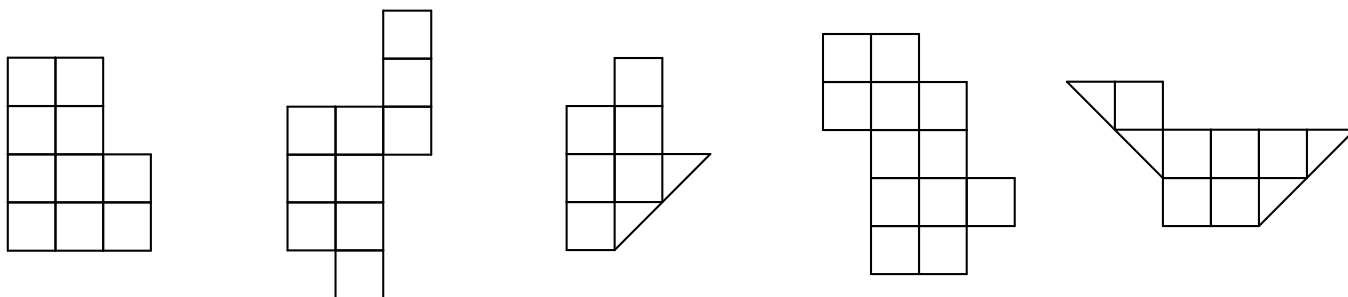


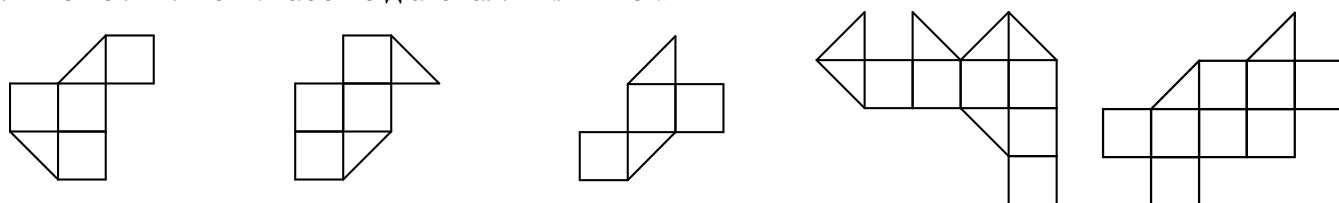


математична МОЗАЇКА

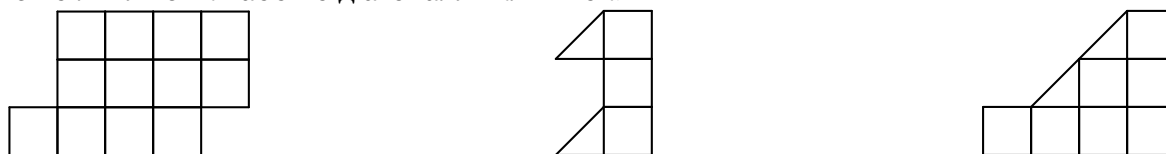
1. (Кожне завдання — 1 бал) Розріжте кожну з поданих фігур на дві рівні частини. Різати можна лише по лініях сітки.



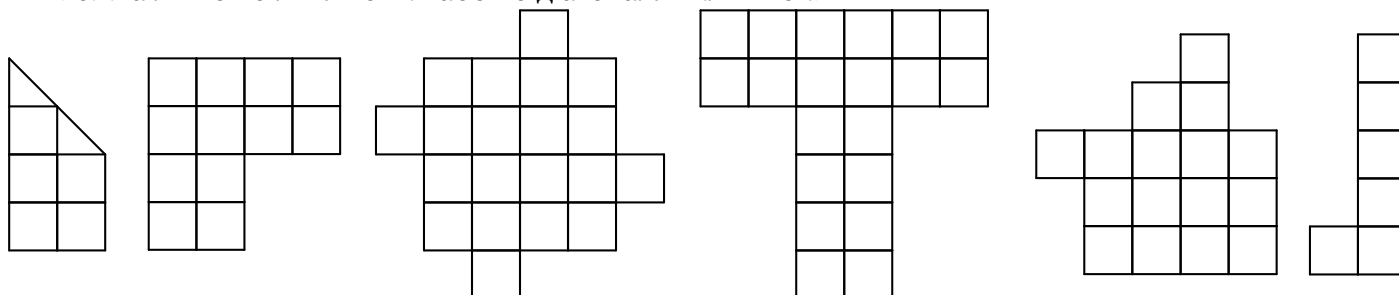
2. (Кожне завдання — 2 бали) Розріжте кожну з поданих фігур на дві рівні частини. Різати можна лише по лініях сітки або по діагоналях клітинок.



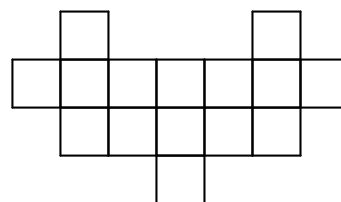

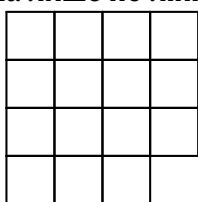
3. (Кожне завдання — 2 бали) Розріжте кожну з поданих фігур на дві рівні частини. Різати можна лише по лініях сітки або по діагоналях клітинок.



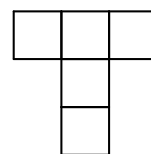

4. (Кожне завдання — 3 бали) Розріжте кожну з поданих фігур на чотири рівні частини. Різати можна лише по лініях сітки або по діагоналях клітинок.



5. (Кожне завдання — 4 бали) Розріжте кожну з поданих фігур на три рівні частини. Різати можна лише по лініях сітки.



6. (5 балів) Розріжте подану фігуру на частини у вигляді букви «Т» (її вигляд наведено праворуч від фігури). Різати можна лише по лініях сітки.



7. (6 балів) Розріжте подану фігуру на дві рівні частини. Різати можна лише по лініях сітки або по діагоналях клітинок.

